


1



ZIVSAIMNIECĪBAS TĪKLS



Komandas nosaukums

Komandas dalībnieki



Pārgājiena noteikumi!

1. Iesim visi kopā, pagaidīsim tos, kas atpaliek;
2. Pārvietosimies bez skriešanas un uzvedīsimies pieklājīgi attiecībā pret pārējiem pārgājiena dalībniekiem un apkārtējiem iedzīvotājiem;
3. Veicot uzdevumu drīkst iet tikai tik tālu, kamēr var redzēt pārgājiena vadītāju;
4. Kad pārgājiena vadītājam virs galvas pacelta roka, visiem ir jābeidz darbs un jāsanāk kopā;
5. Ja jums nepieciešama palīdzība vai ir neskaidri jautājumi, prasiet tos pārgājiena vadītājam;

1. uzdevums (4 punkti)

Atmini mīklas!

Kustīgs spogulis zemē, bet rāda debesis.

Dzird, bet neredz, no kurienes nāk, kurp iet.

Muti plāta, bet nedzied.

Kāds kļūst sarkans lakatiņš, ja to iemet Melnajā jūrā?







2. uzdevums (15 punkti)

Atrodi paslēptos vārdus!

W O U H U A R M Y E L C P H G G D K J U	Vārdu saraksts
H C J S H A J I A K M G R V G N L F A S	AIRIS
B X P K B T X V A X L U C L Q A G M A X	BUTE
R A C E G H C G B H R D W T B W Z M B M	ENKURS
C V S I B Y V Z C K Q V E R O N I S Z S	KAIJA
T A N N D H M F S I L K Ē S L D A I Y F	LAIVA
J G Q J B H T W C P J T S V A O C R V B	LOMS
Z J T E S B S W T N X D B L I T N I I O	MASTS
W O V V M K Z R Y W E I O E V J E A H X	MENCA
G U I Z E O D X Z T Z G L F A A M V P K	MOLS
Z W J I N U A O U P S T S A M Y L N E O	MURDS
O S T A K S V B U A A C G B Q O M G Z Q	OSTA
B T X M U H M A M V M V W K M A A W T W	RONIS
F H E N R Z O K B I B G I S X G D S T D	SĒKLIS
N F I Y S X L O M S I W E X P Z S D L A	TĪKLS
K N V I W X S B B X A Q F M K L Y R J L	ZVEJNIEKS
O Y X C R V X L Y A W X K J K A E U X U	
A V N D U I F E Z J L J Q Ī T Q H M L H	
W Z G H Z X Q G V B Q U T K H A W Z G Y	
T I A T K G M L U O V N R D U P L Z T T	

3. uzdevums (5 punkti)

Izbaudiet pārgājienu gar jūru un tā laikā sameklējiet un ielieciet līdzī dotajā maisiņā šādas lietas:

-  Kaut ko zaļu;
-  Kaut ko cietu;
-  Kaut ko ripojošu;
-  Kaut ko no koka;
-  Kaut ko cauru;
-  Kaut ko mazu;

4. uzdevums (15 punkti)

Pārgājiena laikā atrodiēt attēlos redzamās vietas un izpildiet uzdotos uzdevumus!




Jūsu piedzīvojums sākas šeit pie Lapmežciema Tautas nama.

ŠEIT Izdomājiet komandas nosaukumu un uzņemiet foto, kur dalībnieki sastājušies augošā secībā, t.i., no augumā īsākā līdz garākajām.



ŠEIT uzņemiet foto, kurā jābūt redzamiem trim jūsu komandas dalībniekiem, no kuriem divi dalībnieki pacēlušī uz rokām trešo dalībnieku.



ŠEIT →

Lai šis piedzīvojums jums vienmēr paliek atmiņā, uzņemiet komandas pašbildi!

5. uzdevums (6 punkti)

Atrodi attēlos redzamās vietas un, kā pierādījumu to atrašanai, uzņem tajās jautru foto!

Attēlos atzīmētās vietas izvietotas jauktā secībā visa pārgājienu maršruta garumā, tāpēc vērojiet apkārtni un esiet uzmanīgi!









6. uzdevums (5 punkti)

Izlasi aprakstu un nosaki attēlā redzamās zivs sugu!



Migrējoša zivs – katru rudenī tā ceļo no jūrām uz upju augštecēm un mazākām pietekām, lai nārstotu. Diemžēl vairumā no Baltijas jūrā ietekošajām upēm ir iznīcinātas šo zivju nārstošanai piemērotās vietas, jo upes tiek nosprostotas, lai apmierinātu hidroenerģētikas, kuģniecības un citas intereses. Šodien šis zivis atrodamas tikai

aptuveni ceturtajā daļā no upēm, kas ieplūst Baltijas jūrā un kur šis zivis iepriekš ir dzīvojušas. Gandrīz visas šobrīd veikalos nopērkamās šīs sugas zivis ir audzētas Skandināvijas, Britu salu un Dienvidamerikas (Čīles) zivsaimniecībās.

Šī ir viena no visbiežāk Eiropas saimniecībās audzētajām zivīm. Tās tiek audzētas speciālos jūrā vai upes grīvā iegremdētos sprostos. Eiropā visvairāk šo zivju tiek izaudzētas Skandināvijas valstīs.

Pārgājiena laikā iegūto punktu skaits:

- | | |
|-------------------------|-------|
| 1. uzdevums (4 punkti) | _____ |
| 2. uzdevums (15 punkti) | _____ |
| 3. uzdevums (5 punkti) | _____ |
| 4. uzdevums (15 punkti) | _____ |
| 5. uzdevums (6 punkti) | _____ |
| 6. uzdevums (5 punkti) | _____ |

Papildus punkti par pārgājiena noteikumu ievērošanu, komandas saliedētību un aktivitāti (4 punkti)

KOPĀ: _____